


أحد عشر



ألون العدد 11 في الدائرة، ثم أكتبه في المربعات:

11	11	11	11	11	11
.
.
.

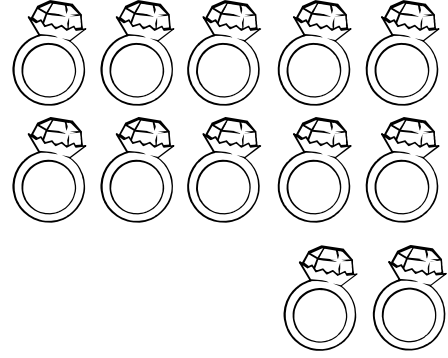
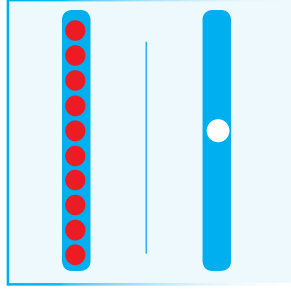


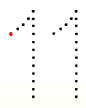




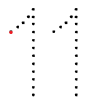




تدريبات العدد 11

ألوّن 11 خاتماً: 

أكتب العدد
في جدول المنازل:

عشرات	آحاد

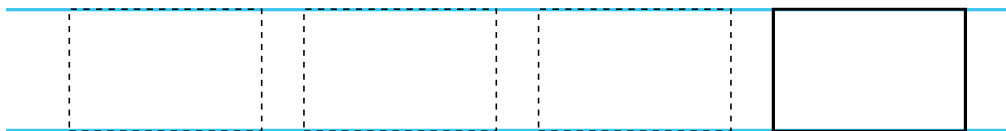
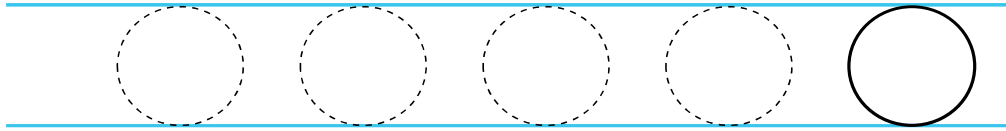


11					
11					












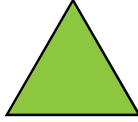

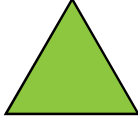


أعدّ وأكتب عدد البطات الصغيرات داخل البركة:




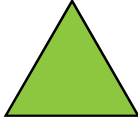


أرسم الأشكال الهندسية ثم ألونها:




أَتَعَرَّفُ الأشكال الهندسيَّة:

أُكْرِرُ الأشكال الهندسية التي بالأعلى في المربعات الفارغة التي بالأسفل على الترتيب نفسه:






أَلوُنُ العَدَدِ 12 في الدائِرةِ، ثمَّ أَكْتُبُهُ في المُرَبَّعاتِ:

12	12	12	12	12	12
.
.
.



تدريبات العدد 12

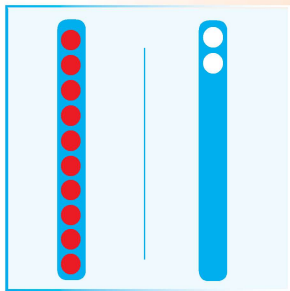
أجمعُ المجموعتين:



أكتبُ:

12	12
12	12

ألونُّ ثمَّ أكتبُ عدد الحلزون بالمربع المقابل:



أكتب العدد
في جدول المنازل:

عشرات	آحاد

